

# **Licence 1 Droit**

## **Annales**

Année universitaire  
2015/2016

## **Semestre 1**



UTI Montauban

Année universitaire 2015-2016  
Première session  
Semestre impair  
Session DECEMBRE 2015

LICENCE EN DROIT ECONOMIE GESTION  
MENTION DROIT  
**1er NIVEAU**  
**SEMESTRE 1**

**INTRODUCTION HISTORIQUE A L'ETUDE DU DROIT**  
Cours de M.Delvit

MARDI 15 DECEMBRE 2015  
14H – 15H30  
\*\*\*\*\*

AUCUN DOCUMENT N'EST AUTORISE

L'examen de fin de semestre comporte au choix un commentaire **ou** en ensemble de demandes.

**Demandes**

Vous direz après avoir choisi **cinq** des **sept** demandes, chacune notée sur 4 points

- qui est Justinien, et ce qu'il a bien pu faire,
- ce qu'est le principe de personnalité des lois : mise en œuvre et évolution,
- ce qu'est l'*Ordinatio imperii* de 817, ce qu'elle sous-tend, sa destinée,
- en quoi consiste le principe d'indisponibilité de la Couronne,
- à quoi sert le serment purgatoire,
- ce qu'est le dar-al-islam dans l'Occident médiéval,
- pourquoi le sacre est essentiel dans la vie de la monarchie médiévale,

**Commentaire**


Vous direz ce que vous suggère cet extrait de la lettre écrite par Fulbert de Chartres à Guillaume V d'Aquitaine en 1020.

Fulbert, Evêque, au glorieux duc d' Aquitaine Guillaume.

Prié d'écrire quelque chose au sujet de la notion de fidélité, j'ai noté... brièvement ce qui suit:

Celui qui jure fidélité à son seigneur doit toujours avoir présents à la mémoire ces six points : salut, sécurité, honneur, intérêt, facilité et liberté d'action. Salut, c'est-à-dire ne point causer de dommage au seigneur dans son corps. Sécurité : ne lui faire aucun tort quant à ses secrets et aux places fortes où il peut être en sûreté. Honneur : ne porter aucune atteinte à sa justice ni aux autres prérogatives qui relèvent de ses droits honorifiques. Intérêt : ne causer aucun dommage à ses possessions. Facilité et liberté d'action : ne pas rendre difficile le bien que le seigneur peut faire facilement et ne pas rendre impossible celui qui lui est possible. Il est juste que le fidèle se garde de ces attitudes nuisibles, mais le chasement (= la concession d'une terre) lui impose davantage : il ne lui suffit pas de s'abstenir du mal, s'il ne fait pas le bien. Il reste, en effet, qu'on doit, sur les six points susdits, apporter fidèlement à son seigneur le conseil et l'aide, si l'on veut être digne du bénéfice que l'on a reçu et être quitte de la fidélité que l'on a jurée.

De son côté, le seigneur doit dans tout cela agir de même à l'égard de son fidèle. S'il ne le fait pas, il est considéré à juste titre comme ayant violé sa foi, de même que le vassal, qui a manqué à ses devoirs en agissant ou en laissant faire, est traître et parjure.



UT1 Montauban

Année universitaire 2015-2016  
Première session  
Semestre impair  
Session DECEMBRE 2015

LICENCE EN DROIT ECONOMIE GESTION  
MENTION DROIT  
**1er NIVEAU**  
**SEMESTRE 1**


**INSTITUTIONS INTERNATIONALES**  
Cours de M.Hamdouni

MARDI 15 DECEMBRE 2015  
9H – 10H30  
\*\*\*\*\*

AUCUN DOCUMENT N'EST AUTORISE

Vous traiterez le sujet suivant :

Les Nations Unies et la sécurité internationale.



UTI Montauban

Année universitaire 2015-2016  
Première session  
Semestre impair  
Session DECEMBRE 2015

LICENCE EN DROIT ECONOMIE GESTION  
MENTION DROIT  
**1er NIVEAU**  
**SEMESTRE 1**

**INTRODUCTION AU DROIT PRIVE**  
Cours de Mme Rieubernet

VENDREDI 18 DECEMBRE 2015  
14H – 15H30  
\*\*\*\*\*

AUCUN DOCUMENT N'EST AUTORISE

**1°- Commenter l'arrêt suivant (17 points):**

**Cour de cassation, chambre civile 3, 14 janvier 2014**

Attendu, selon l'arrêt attaqué (Colmar, 23 mai 2012), que, soutenant qu'en 1999, alors qu'il exerçait une activité d'entrepreneur de gros-œuvre, sous l'enseigne Renovest, il avait exécuté des travaux pour son père M. Selim X... et que ses factures n'avaient pas été payées, M. Farouk X... l'a assigné en paiement de la somme de 110 246,08 euros ;

Sur le second moyen :


Vu l'article 1348 du code civil ;

Attendu que pour débouter M. Farouk X... de sa demande, l'arrêt retient qu'en se bornant à considérer que du fait qu'à l'époque supposée du contrat les relations familiales n'étaient pas conflictuelles et que la relation de confiance qui existait entre le père et le fils faisait obstacle à la rédaction d'un écrit, le premier Juge a insuffisamment caractérisé l'impossibilité matérielle ou morale visée par le texte, qu'à cet égard l'appelant ne soumet aucun élément nouveau, faisant seulement sienne pour l'approuver la motivation du jugement et qu'il s'évince du tout que la preuve du contrat ne peut être rapportée par tous moyens, de sorte que la discussion autour des pièces produites devant la Cour qui ne constituent pas des écrits au sens des articles 1341 et 1347, s'avère sans emport ;

Qu'en statuant ainsi, sans expliciter en quoi les relations familiales entre le fils et le père n'auraient pas constitué une impossibilité morale d'exiger un écrit, la cour d'appel, qui s'est prononcée par voie de simple affirmation, n'a pas donné de base légale à sa décision ;

PAR CES MOTIFS et sans qu'il y ait lieu de statuer sur le premier moyen : CASSE ET ANNULE, dans toutes ses dispositions, l'arrêt rendu le 23 mai 2012, entre les parties, par la cour d'appel de Colmar ; remet, en conséquence, la cause et les parties dans l'état où elles se trouvaient avant ledit arrêt et, pour être fait droit, les renvoie devant la cour d'appel de Metz ;

**2° - Définir les notions de droit réel et de droit personnel (3 points).**



UTI Montauban

Année universitaire 2015-2016  
Première session  
Semestre impair  
Session DECEMBRE 2015

LICENCE EN DROIT ECONOMIE GESTION  
MENTION DROIT  
**1er NIVEAU**  
**SEMESTRE 1**


**INTRODUCTION AU DROIT PUBLIC**  
Cours de M.Baumont

MERCREDI 16 DECEMBRE 2015  
9H30 – 11H  
\*\*\*\*\*

LA CONSTITUTION DU 04 OCTOBRE 1958 EST AUTORISEE (Edition Dalloz)

Commentez ces écrits du Doyen Georges VEDEL dans son manuel intitulé « Droit constitutionnel » :

« Le droit constitutionnel est autre chose que le droit de la « Constitution » parce que « Tout le droit constitutionnel n'est pas dans la Constitution. » ».



Site de MONTAUBAN

1<sup>o</sup> ANNEE DE LICENCE EN DROIT

Année 2015-2016

SEMESTRE 1

Session 1

**ECRIT d'ECONOMIE** du 16/12/2015

(Cours de M. MENU)

Durée de l'épreuve : 1 heure 30

Calculatrice et documents non autorisés.

Répondre à chacune des 20 questions en cochant une seule réponse, la plus pertinente, sur la grille de réponse.

Barème : Pour chaque question : +1 si la réponse est juste, 0 si absence de réponse, fausse réponse ou réponses multiples.

oOo

Question 1 : Quelle est la cause de la dégradation des termes de l'échange ?

- A La volonté de pouvoir des pays développés
- B La différence de valeur ajoutée dans les produits échangés
- C La manipulation des prix par les monopoles ou lobbies
- D L'insuffisance d'infrastructure des pays en voie de développement

oOo

Question 2 : Les paradoxes reposent selon Bertrand RUSSEL sur :

- A La confusion des niveaux de complexité
- B Les contradictions entre rationnel et irrationnel
- C L'opposition entre savoir et sens commun
- D Le sophisme des raisonnements

oOo

Question 3 : Le terme d'économie politique est dû à :

- A Antoine de MONTCHRESTIEN
- B Adam SMITH
- C Karl MARX
- D John Maynard KEYNES

oOo

Question 4 : Pourquoi la spécialisation et l'échange permettent-ils d'augmenter la consommation des deux pays échangistes d'après David RICARDO ?

- A Les pays sont plus riches à cause des synergies
- B Les consommateurs apprécient davantage les produits
- C Le déplacement de la main d'œuvre entre activités a augmenté la productivité globale
- D Cela a fait croître les prix

oOo

Question 5 : Pour accepter une assertion, selon Daniel KAHNEMAN, il faut qu'elle soit (une mauvaise réponse) :

- A En accord avec ce que l'on pense
- B Aisée à comprendre
- C Rassurante
- D Prouvée

oOo

Question 6 : La situation économique est née avec :

- A La brisure de symétrie
- B L'invention de la monnaie
- C La découverte de l'écriture
- D La création du capitalisme

oOo

Question 7 : Un pays a une production totale de 2400, ses consommations intermédiaires sont de 1400. Dans ce pays, on verse 200 de profit, combien distribue-t-on de salaire ?

- A 2200
- B 1200
- C 1000
- D 800

oOo

Question 8 : Qui oppose le monde du vouloir au monde des représentations :

- A Arthur SCHOPENHAUER
- B Sigmund FREUD
- C René MAGRITTE
- D Karl MARX

oOo

Question 9 : Concernant la différence entre le PIB et le RNB, une seule de ces quatre affirmations est correcte:

- A Le Revenu National Brut est toujours plus petit que le PIB.
- B Le PIB est plus grand que le Revenu National Brut dans les pays qui possèdent beaucoup d'entreprises installées à l'étranger.
- C Le Revenu National Brut est plus grand que le PIB dans les pays qui possèdent beaucoup d'entreprises installées à l'étranger.
- D Le Revenu National Brut est toujours plus grand que le PIB.

oOo

Question 10 : Qu'est-ce qui s'oppose à l'heuristique ?

- A Algorithmique
- B Empirique
- C Herméneutique
- D Eclectique

oOo



Question 11 : Un revenu est essentiellement et avant tout un moyen :

- A de consommation
- B d'épargne
- C de décision
- D d'investissement

oOo

Question 12 : Les représentations, selon Jean-Claude ABRIC, ont des fonctions (une seule mauvaise réponse) :

- A De validation
- B Cognitive
- C De justification des pratiques
- D Identitaire

oOo

Question 13 : Qui a observé que les substances croissent de façon arithmétique alors que la population croît de façon géométrique ?

- A Vilfredo PARETO
- B Karl MARX
- C Ivan ILLICH
- D Thomas Robert MALTHUS

oOo

Question 14 : Si le coût d'opportunité de 800 hl d'huile d'olive est de 2 tonnes de dattes pour un pays A et de 4 tonnes pour un pays B, il est possible d'affirmer que :

- A Le pays A a un avantage comparatif dans la production d'huile
- B Le pays B a un avantage comparatif dans la production d'huile
- C Le pays A a un avantage comparatif dans la production de dattes
- D Le pays B a un avantage comparatif dans la production de dattes

oOo

Question 15 : Sur quelle loi s'appuient les tenants de la décroissance ?

- A La baisse tendancielle du taux de profit
- B Le second principe de la thermodynamique
- C La loi des débouchés
- D La loi du moindre effort

oOo

Question 16 : Pourquoi principalement deux pays semblables en dotation de facteurs et en technologie éprouvent-ils le besoin d'échanger ?

- A Parce que les consommateurs apprécient la diversité
- B Parce que cela crée des liens et favorise la paix
- C Parce que cela crée une saine émulation
- D Parce que cela évite la dégradation des termes de l'échange

oOo

Question 17 : «L'augmentation soutenue pendant une ou plusieurs périodes longues, chacune de ces périodes comprenant plusieurs cycles quasi décennaux, d'un indicateur de dimension, pour une nation, le produit global net en termes réels» s'appelle :

- A le développement
- B la croissance
- C l'inflation
- D l'innovation

oOo

Question 18 : La loi des proportions de facteurs est due à :

- A LEONTIEF
- B KRUGMAN
- C LASSUDRIE-DUCHÊNE
- D HECKSHER-OHLIN

oOo

Question 19 : Les déterminants de la croissance effective reposent sur (une mauvaise réponse) :

- A L'augmentation de la demande
- B L'augmentation de la population active
- C La réalisation de profit
- D Le développement des institutions

oOo

Question 20 : Pour produire 1Kg de viande la France met 60', l'Allemagne 20' et pour produire 1Kg de patate la France met 15', l'Allemagne 10'. Quel est le coût d'opportunité d'1 Kg de patate pour la France ?

- A  $\frac{1}{4}$  Kg de viande
- B  $\frac{1}{2}$  Kg de viande
- C 1 Kg de viande
- D 4 Kg de viande

**EXAMEN D'ECONOMIE**

**M. MENUU**

Coller ici l'étiquette code barre

GRILLE DE REPONSES

Q1	A	B	C	D
Q2	A	B	C	D
Q3	A	B	C	D
Q4	A	B	C	D
Q5	A	B	C	D
Q6	A	B	C	D
Q7	A	B	C	D
Q8	A	B	C	D
Q9	A	B	C	D
Q10	A	B	C	D
Q11	A	B	C	D
Q12	A	B	C	D
Q13	A	B	C	D
Q14	A	B	C	D
Q15	A	B	C	D
Q16	A	B	C	D
Q17	A	B	C	D
Q18	A	B	C	D
Q19	A	B	C	D
Q20	A	B	C	D



UTI Montauban

Année universitaire 2015-2016  
Première session  
Semestre impair  
Session DECEMBRE 2015

LICENCE EN DROIT ECONOMIE GESTION  
MENTION DROIT  
**1er NIVEAU**  
**SEMESTRE 1**

**COMPTABILITE ET GESTION**

JEUDI 17 DECEMBRE 2015  
14H – 15H  
\*\*\*\*\*

LA CALCULATRICE FOURNIE PAR L'ADMINISTRATON EST AUTORISE

**NOTE :** Le sujet comporte deux exercices indépendants. **Le taux de TVA est de 20%**

**Exercice 1 : Opérations courantes**

**A-Enregistrer au journal de l'entreprise les opérations suivantes :**

- 1) **2 décembre :** Vente de marchandises pour un montant 3 000 € HT. Règlement par chèque.
- 2) **5 décembre :** Achat de marchandises 1 000€ HT. Règlement au comptant par chèque.
- 3) **15 décembre :** Réception d'un avis d'impôt pour un montant de 2 000 € payé de suite..
- 4) **16 décembre :** L'entreprise paye 2 000€ par chèque à un fournisseur pour un achat à crédit du mois précédent.

**B- TVA de novembre**

**30 novembre :** Le compte 4456 TVA déductible du mois présente un solde débiteur

de 5 500€, et le compte 4457 TVA collectée un solde créditeur de 8 000€. Le compte 44567 Crédit de TVA à reporter présente le mois précédent un solde débiteur de 400€.

Reporter ces sommes dans les comptes schématiques en T.

Calculer la TVA à payer au titre du mois de novembre et enregistrer l'écriture correspondante au journal de l'entreprise.

## Exercice 2 : Opérations de fin d'exercice

A- Procédez aux enregistrements comptables que vous jugerez nécessaires

La société possède au 31/12/N un stock final de marchandises d'une valeur de 12 000 €. Son stock initial, au 1/1/N, était de 15 000€ .

B- Le 1/7/N-1, l'entreprise a acquis une installation technique pour 20 000 € HT, amortissable sur 5 ans en linéaire.

Présenter le tableau d'amortissement linéaire de cette immobilisation et enregistrer l'écriture nécessaire dans le journal au 31/12/N.

Présenter la ligne du bilan au 31/12/N concernant cette immobilisation.

LICENCE EN DROIT ECONOMIE GESTION  
MENTION DROIT  
1er NIVEAU  
SEMESTRE 1

INFORMATIQUE

JEUDI 17 DECEMBRE 2015

9 H 30 - 10 H 30

\*\*\*\*\*

REpondre a chacune des questions en cochant **UNE SEULE REponse**,

prenez le temps de la réflexion avant de cocher.

BAREME : POUR CHAQUE QUESTION :

+ 1 SI LA REponse EST JUSTE,

0 SI ABSENCE DE REponse, FAUSSE REponse OU REponses MULTIPLES.

AUCUN DOCUMENT N'EST AUTORISE

?° 1. *Excel est un logiciel :*

---

- |   |                                       |
|---|---------------------------------------|
| <input type="checkbox"/> De traitement de texte | <input type="checkbox"/> de graphique |
| <input type="checkbox"/> de diaporama           | <input type="checkbox"/> tableur      |

?° 2. *J'ai un fichier Excel version 2007 mais sur mon ordinateur j'ai Excel 2003:*

---

- Dommage je n'en tirerais rien
- Je télécharge un module permettant de voir le fichier
- Je télécharge un module à l'ouverture d'excel qui me permettra de modifier tous les fichiers excel quelque soit la version
- Je demande à mon interlocuteur de me renvoyer le fichier en excel 2003

?° 3. *J'utilise toujours le même champ de valeur pour le taux de TVA:*

---

- Je peux dire à excel de nommer ce champ et l'appeler quand je veux !
- Je peux utiliser une macro qui me ramènera ce champ
- Je peux utiliser la touche shift pour faire une sélection rapide
- Les trois réponses

?° 4. *Qu'est-ce que l'incrémentation ?*

---

- C'est une base de données
- Un copier coller rapide qui augmente les n° de colonnes et des lignes automatiquement
- Un système permettant de trouver rapidement une info dans un tableau énorme.

?° 5. *Est-il possible de faire référence à un autre classeur ?*

---

- Oui     Non

?° 6. *Qu'est-ce qu'un classeur ?*

---

- |   |  |
|---|--|
| <input type="checkbox"/> Un ensemble de feuille de calcul | <input type="checkbox"/> Une partie d'un fichier excel |
| <input type="checkbox"/> Un fichier Word                  |  |

?° 7. *Par quel symbole commence un calcul sous excel ?*

---

- |   |   |
|---|---|
| <input type="checkbox"/> Le symbole : * | <input type="checkbox"/> symbole : -    |
| <input type="checkbox"/> Le symbole : = | <input type="checkbox"/> Aucun symbole. |

?° 8. *Combien de lignes et de colonnes dispose Excel ?*

---

- |                                       |  |
|---------------------------------------|--|
| <input type="checkbox"/> Une infinité | <input type="checkbox"/> Cela dépend de la version d'excel |
|---------------------------------------|--|

?° 9. *A quoi correspond une cellule remplie de #*

---

- |  |  |
|--|--|
| <input type="checkbox"/> Une erreur          | <input type="checkbox"/> Une cellule trop petite pour afficher la valeur |
| <input type="checkbox"/> Un calcul trop long |  |

?° 10. Comment enlever les # d'une cellule ?

- On ne peut pas !
- On agrandit la largeur de la cellule
- On met la cellule en texte !

?° 11. Peut-on protéger les valeurs d'un tableau ?

- Oui en protégeant certaines cellules
- Oui en protégeant le classeur
- Non c'est impossible
- Oui ! en protégeant soit des cellules soit le classeur soit les deux

?° 12. Comment enregistrer un classeur excel

- En cliquant sur la disquette
- En cliquant sur fichier puis enregistrer
- En appuyant sur la touche Ctrl + S
- Les 3

Selon l'écran suivant répondez aux questions suivantes :

Article	PU HT	Qté	PHT Total	montant TVA	TOTAL TTC
Maillot de bain	26,00 €	1	26,00 €	5,36 €	31,36 €
Serviette de bain	15,00 €	2	17,00 €	#VALEUR!	#VALEUR!
Lunette de bain	30,00 €	2	60,00 €	321,36 €	381,36 €
Total commande					#VALEUR!

?° 13. Dans quelle cellule, je vais saisir du texte ?

- A1
- B10
- C11
- G10

?° 14. Pour calculer le montant de TVA en cellule E3, on utilise la formule =D3 + E1

- Oui
- Non

?° 15. Que signifie l'erreur #VALEUR

- Erreur est produite lors d'une division impossible
- Les arguments et opérands peuvent être des valeurs numériques, texte, des références de cellules...
- Erreur apparaît lorsqu'Excel ne reconnaît pas le texte dans une formule



Selon l'écran suivant répondez aux questions suivantes :

	A	B	C	D	E	F	G	H	I	J
		CA	Salaire fixe	Nombre d'enfants	Prime	Prime enfant	total salaire			
2	Maxence	12 000,00 €	1 500,00 €	2						
3	Paulin	9 000,00 €	800,00 €	3						
4	Izidore	4 000,00 €	2 300,00 €	1						
5	Didier	15 000,00 €	800,00 €	1						

° 16. On veut rajouter une prime enfant en fonction du nombre d'enfants à charge. A savoir 70 euros lorsqu'il y a moins de trois enfants sinon 140 euros. Dans la cellule F2, je vais saisir :

- $=SI(D2<3;70;140)$ 
  $=SI(D2<3;70;140)$ 
  $=SI(D2<3;70 :140)$

° 17. Ensuite la prime en colonne E sera calculée selon le Chiffre d'affaires. On calculera un pourcentage de 10% si le CA est supérieur à 7 000€ sinon appliquera 3% au CA.

- $=SI(B2<7000;C2*10%;C2*3%)$ 
  $=SI(B2<7000;C2*3%;C2*10%)$   
  $=SI(B2>7000;C2*3%;C2*10%)$

° 18. Enfin le total salaire, au salaire on ajoutera la prime sur CA et la Prime enfant. Voici les propositions de calcul :

- $=SOMME(E2 ;F2)+C2$ 
  $=E1+F2+C2$   
  $=SOMME(E2:F2)+C2$

	A	B	C	D	E	F	G	H	I	J
	Vente du mois de Aout 2015									
	Date	Produit	Qté	Prix	Total					
3	01/08/2015	Gommette	12	4	48,00 €					
4	02/08/2015	Crayon	5	6,9	34,50 €					
5	03/08/2015	Feutre	3	1,5	4,50 €					
6	04/08/2015	Gommette	3	4	12,00 €					
7	05/08/2015	Feutre	12	6,9	82,80 €					
8	06/08/2015	Gommette	5	4	20,00 €					
9	07/08/2015	Gommette	4	4	16,00 €					
10	08/08/2015	Feutre	9	6,9	62,10 €					
11	09/08/2015	Crayon	8	1,5	12,00 €					
12	10/08/2015	Crayon	12	1,5	18,00 €					
13	11/08/2015	Gommette	15	4	60,00 €					
14	12/08/2015	Feutre	12	6,9	82,80 €					
15		Total	100	52	452,70 €					

	Qté	Prix
Gommette	39	156,00 €
Feutre	38	232,20 €
Crayon	20	30,00 €
Total	95	418,2

° 19. Après vérification les totaux ne sont pas identiques. Il y a forcément une erreur. Voici la formule recopiée vers le bas pour les Quantités :  $=SOMME.SI(B3:B14;G12;C3:C14)$

Sachant : La fonction SOMME.SI a besoin de 3 paramètres pour fonctionner : La plage de sélection ; Le critère de sélection ; La plage à additionner

- $=SOMME.SI(\$B\$3:\$B\$14;G13;C3:C14)$   
  $=SOMME.SI(B4:B15;\$G\$13;C4:C15)$   
  $=SOMME.SI(\$B\$3:\$B\$14;G12;\$C\$3:\$C\$14)$

?° 20. Quel est le programme le plus utilisé pour faire un planning ?

- Outlook       Excel       Word

?° 21. Comment saisir les heures dans excel ?

- 1 :       1 h       1 h 00 mn

?° 22. De quelle manière automatiser la création des onglets ?

- Recopie des onglets un par un  
 Enregistreur de macros  
 Recopie des onglets par paquets de 3

?° 23. \$A1 veut dire :

- La cellule A1 est totalement relative  
 La cellule A1 est relative sur la ligne et absolue sur la colonne  
 La cellule A1 est absolue


?° 24. Pour calculer une moyenne de deux valeurs numériques situées en A2 et B2, quelle fonction serait la bonne ?

- &moyenne(a2;b2)       =MOYENNE(A2+B2)       =MOYENNE(A2;B2)

?° 25. Comment obtenir la date du jour dans la cellule F3 ? (celle-ci est sélectionnée)

- =AUJOURDHUI       =AUJOURDHUI()       =AUJOURDHUI(F3)

?° 26. Comment obtenir ce que nous avons en A3 sur la photo ci-dessous ?



	A	B	C
1			18/11/2015
2			
3	Nous sommes le 18/11/2015		
4			

- =CONCATENER(A1;TEXTE(B1;'jj/mm/aaaa'))  
 =A1&TEXTE(B1;'jj/mm/aaaa')  
 Les deux sont correctes

?° 27. Propriété de cellule que j'ai nommée :

- Elle est absolue sur tous les classeurs ouverts.  
 Elle est absolue uniquement sur la feuille sélectionnée du classeur.  
 Elle est absolue sur tout le classeur.  
 Elle est absolue sur la feuille sélectionnée, relative sur le classeur.

?° 28. Comment se nomme un tiret empêchant la coupure de 2 mots ? Exemple : Jean-Pierre

- tiret insécable       trait d'union       tiret d'union       trait insécable

?° 29. La touche de raccourci CTRL + A permet de ?

- aller au début du document     aller à la fin du document  
 sélectionner un mot     sélectionner tout le document

?° 30. Pour créer un retour à la ligne, vous pouvez utiliser les solutions suivantes ?

- Maj + Entrée au clavier     Insertion / saut / saut de ligne  
 ALT + Entrée au clavier     Clic droit + Insérer saut de ligne

?° 31. Comment se nomme la mise en forme du mot suivant : ~~traya~~

- souligné     encadrement     barré     bordure

?° 32. Comment se nomme L'espacement entre les lignes d'un paragraphe

- Espacement avant     Interligne     Espacement après     retrait

?° 33. Un paragraphe aligné par rapport au milieu de ses retraits, est dit ?

- Gauche     droite     justifié     centré

?° 34. Après avoir sélectionné mes 4 lignes de texte, j'ai cliqué sur le bouton "Numérotation" du ruban Accueil. Pourquoi la seconde ligne ne porte pas le numéro 2 ?

1. J'aime pas ←  
Je n'aime pas
2. J'adore
3. Je l'aime

- cette ligne n'est pas un paragraphe     c'est un bogue de Word  
 Il faut un saut de section  
 Word comprend que "J'aime pas" doit être intégré dans "JE n'aime pas"

?° 35. Pour présenter un texte comme dans l'exemple ci-dessous, quelle méthode préconiserez-vous ?

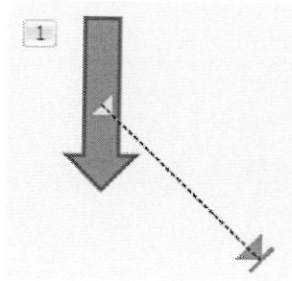
Chablis.....	15,20€
Sancerre.....	23,2€
Gros-rouge.....	1,15€

- Je réalise un tableau  
 J'utilise la règle et mes taquets de tabulation  
 J'écris mon texte et je saisis les points  
 Je mets le texte sur 2 colonnes

?° 36. A l'aide de quel raccourci clavier peut-on réaliser un tiret insécable ?

- CTRL + 8     MAJ + t     MAJ + CTRL + Espace  
 Un "tiret insécable" ça n'existe pas !





?° 45. Cette animation est de type ?

- Ouverture     Quitter     Trajectoires     Accentuation

?° 46. Si l'on souhaite démarrer un effet d'animation sur un objet, lors d'un clic sur un autre objet, cet autre objet sera nommé ?

- Démarreur     Animateur     Événement     Déclencheur

?° 47. Une transition est une animation qui a lieu lors ?

- du démarrage d'un diaporama     de l'arrêt d'un diaporama  
 du passage à une autre diapositive     du démarrage d'une vidéo

?° 48. A quel type de service accède-t-on avec le protocole http ?

- La discussion en direct (chat)     L'accès à des sites sécurisés  
 La gestion du courrier électronique     Le chargement de page Web  
 Le transfert de fichiers

?° 49. Qu'est-ce que le protocole HTTPS ?

- Le protocole HTTP en version multi-poste  
 Une ancienne version du protocole HTTP  
 La version sécurisée du protocole HTTP  
 Un protocole d'accès aux vidéos numériques  
 Un langage de description de page comme le format HTML

?° 50. Qu'est-ce qu'un logiciel (freeware) ?

- Un logiciel stocké sur une mémoire flash  
 Un logiciel gratuit  
 Un logiciel utilisable sur tout type d'ordinateur  
 Un logiciel dont le code source est libre (open source)  
 Un logiciel pour lequel on paie volontairement aux auteurs une certaine somme afin de contribuer à son développement

?° 51. *Qu'assure la confidentialité des données ?*

---

- Que les données ne puissent pas être effacées par des tiers à l'insu de leur propriétaire*
- Que les données ne soient pas lisibles par des tiers à l'insu de leur propriétaire*
- Que les données soient sauvegardées automatiquement*
- Qu'aucun virus ne puisse détruire de données sensibles*
- Que l'exécution de virus endommageant les données soit détectée*

?° 52. *Qu'est-ce que le Wifi ?*

---

- Un réseau câblé*
- Un système de gestion de contenus de site web modifiable par les utilisateurs*
- Une norme pour le son numérique haute-définition*
- Un réseau sans fil*
- Une connexion à internet par le réseau téléphonique*

?° 53. *Qu'est-ce que la netiquette ?*

---

- Un catalogue de comparaison de prix en ligne*
- Un guide définissant des règles de conduite et de politesse à adopter sur le réseau*
- Une authentification requise pour accéder à certains services d'Internet*
- Une loi votée par le parlement français*

?° 54. *Comment appelle-t-on la loi française visant à promouvoir le commerce électronique au sein de l'Union européenne ?*

---

- La loi pour la confiance dans l'économie numérique (LCEN ou LEN)*
- La loi Hadopi (Haute Autorité pour la Diffusion des Œuvres et la Protection des Droits sur Internet)*
- La loi création et Internet (ou LCI)*
- La loi DADVSI (Droit d'auteur et droits voisins dans la société de l'information)*

?° 55. *Qu'est-ce que l'ADSL ?*

---

- C'est une technologie utilisant les réseaux sans fil haut débit.*
- C'est une technologie utilisant les ondes radio courte distance.*
- C'est une technologie utilisant la ligne téléphonique d'abonné.*
- C'est une technologie utilisant des connexions USB.*
- C'est une technologie utilisant les bornes de téléphonie mobile.*

?° 56. A quoi s'applique le droit d'auteur ?

---

- Aux oeuvres de l'esprit.
- A la vie privée.
- Aux opinions.
- Aux biens matériels.
- A la liberté de la presse.

?° 57. Que veut dire dans une adresse Web le .com ?

---

- Site commercial.
- Site communautaire.
- Site des îles Comores.
- Site commémoratif.

?° 58. Qu'est-ce qu'est le "streaming" ?

---

- Une présentation de diapositives qui a été automatisée
- Une technique permettant d'envoyer plusieurs fichiers à la fois par ftp
- Un processus permettant d'envoyer un email à plusieurs personnes à la fois
- Une technique permettant le téléchargement et l'écoute simultanée d'un fichier audio ou audio/video

?° 59. Comment définir Internet ?

---

- C'est un ensemble de sites web interconnectés.
- C'est une communauté des utilisateurs d'un logiciel.
- C'est une interconnexion de réseaux.
- C'est un ensemble de logiciels.

?° 60. Que signifie l'acronyme CNIL ?

---

- La Commission Nationale des Informations Libres
- La Caisse Nationale des Informaticiens Libéraux
- La Commission Nationale de l'Informatique et des Libertés
- La Communauté des Nouvelles Informations Libres
- La Commission Nationale d'Informatique Légale

LICENCE EN DROIT ECONOMIE GESTION  
MENTION DROIT  
**1er NIVEAU**  
**SEMESTRE 1**

**SOCIOLOGIE ET PSYCHOLOGIE SOCIALE**  
Cours de M.Ferret

JEUDI 17 DECEMBRE 2015  
11H30 – 12H30  
\*\*\*\*\*

AUCUN DOCUMENT N'EST AUTORISE

Vous devez répondre précisément à la question posée. Si on vous demande deux auteurs, vous proposerez deux auteurs. Si on vous demande de définir un concept, vous le définirez brièvement, le plus précisément possible. Toute proposition supplémentaire entraînera la nullité de la réponse. Vous ferez également très attention à l'orthographe des noms propres des auteurs cités.

1°) Quelles sont les deux dimensions de la *neutralité axiologique* selon Max Weber ?  
1 point

2°) Quels sont les deux auteurs qui ont évoqué le phénomène de *transplantation* de populations en milieu urbain ?  
1 point

3°) Quelles sont les deux composantes du processus analysé par Norbert Elias ?  
2 points

4°) Qu'est-ce qu'un *paradigme* en sociologie ?  
1 point

5°) Quel est le *moteur* de la vie sociale selon Pierre Bourdieu ?  
1 point

6°) Citez et définissez très précisément deux concepts clés forgés par Erving Goffman  
2 points

7°) Donnez un concept central à retenir de *l'Ethique protestante et l'esprit du capitalisme* de Max Weber ? 1 point

8°) Quelle est la définition du concept de *violence politique totale* ? 1 point