

Licence 1 DROIT

Annales

Année universitaire
2010/2011

Semestre 1

HISTOIRE DE LA SOCIETE FRANCAISE I

-----***-----

1er ANNEE LICENCE DROIT/AES

**_*_*_

HISTOIRE DE LA SOCIETE FRANCAISE
COURS DE Mr DELVIT, PROFESSEUR DES UNIVERSITES

MARDI 14 DECEMBRE 2010

DUREE DE L'EPREUVE : 1 H 30 (de 14 h à 15 h 30)

VALIDATION DE L'UNITE D'ENSEIGNEMENT N°1 - SESSION DE DECEMBRE 2010

Le sujet d'examen est composé de deux parties:

Cinq demandes, vous en choisirez quatre, chacune notée sur 10:

- Pourquoi la monnaie fiduciaire ne s'impose-t-elle que très progressivement au XIXe siècle?
- Qui est Walt Rostow, et ce qu'il a pu écrire sur le développement économique.
- Ce que sont les formes juridiques de l'organisation du capital dans la France du début de la mutation industrielle.
- Ce que l'on nomme la spécialisation bancaire.
- Ce qu'est la loi Waldeck-Rousseau de 1884.
- Ce qu'est la loi Waldeck-Rousseau de 1884.

Un commentaire, noté sur 60:

Vous direz ce que vous inspire la lettre ci-dessous, s'agissant des obstacles matériels qui pèsent sur le monde de la terre dans la France du début du XIXe siècle.

Pour satisfaire à la demande contenue dans la lettre de Votre Excellence du 19 de ce mois, j'ai l'honneur de l'informer que dans ce département on est dans l'usage sans exception de battre les grains au fléau, à découvert et au soleil, aussitôt après la moisson dans des aires renouvelées tous les ans avec soin.

Plusieurs considérations ont dû faire donner la préférence à ce mode sur celui d'employer des animaux à ce travail. On n'a point dans ce pays des bâtiments pour engranger les gerbes; la culture des terres n'a lieu qu'à l'aide de boeufs, et l'on a besoin de chevaux pour fouler les grains. Cette dernière méthode hache la paille; le fléau la sépare sans la briser, elle est une ressource précieuse pour nourrir, durant l'hiver, les bestiaux qui manquent le plus souvent des autres fourrages.

Ainsi que Votre excellence a paru le croire, le département que j'administre ne forme pas la ligne de séparation entre les contrées qui ont là dessus un usage différent; les renseignements qui lui parviendront des autres départements la convaincront que dans tous ceux qui avoisinent le Tarn-et-Garonne, on se sert généralement du fléau.

Daignez agréer,

(Brouillon de la lettre adressée au ministre de l'Intérieur par le premier préfet du Tarn-et-Garonne, Félix Le Peletier d'Aunay, le 31 janvier 1807.)¹

Comme le veut l'usage hérité de l'Ancien régime et rétabli par l'Empire, on s'adresse aux ministres en les qualifiant d'Excellence, et en leur parlant à la troisième personne. La formule de politesse est laissée en blanc, le secrétaire la complète.

Source: Archives départementales de Tarn-et-Garonne, 7M1238.

Transcription (orthographe modernisée) Philippe Delvit.

¹ Louis Honoré Félix Le Peletier d'Aunay (1782-1855) si l'on suit la graphie de son dossier d'attribution de la Légion d'Honneur. Auditeur au Conseil d'Etat, il est préfet de Tarn-et-Garonne de 1808 à 1813. Baron d'Empire (1809), il est quasi sans interruption député de Seine-et-Oise de 1827 à 1851.

Aucun document autorisé.

DROIT CONSTITUTIONNEL I

----***----

1^{ère} année DROIT

**_*_*_

INTRODUCTION AU DROIT PUBLIC
(Cours de Monsieur ESPLUGAS)

MERCREDI 15 DECEMBRE 2010

DUREE DE L'EPREUVE : 1H30 (de 14H à 15H30)

VALIDATION DE L'UNITE D'ENSEIGNEMENT N°2

Commentez l'article 61-1 de la Constitution de 1958 :

« Lorsque, à l'occasion d'une instance en cours devant une juridiction, il est soutenu qu'une disposition législative porte atteinte aux droits et libertés que la Constitution garantit, le Conseil constitutionnel peut être saisi de cette question sur renvoi du Conseil d'Etat ou de la Cour de cassation qui se prononce dans un délai déterminé. »

Conseil constitutionnel peut être saisi de cette question sur renvoi du Conseil d'Etat ou de la Cour de cassation qui se prononce dans un délai déterminé. »

DROIT CIVIL I

-----****-----

1^{ère} année de LICENCE DROIT et AES

PREMIER SEMESTRE - PREMIERE SESSION

ÉPREUVE D'INTRODUCTION AU DROIT PRIVE

Traiter les deux sujets :

1^o - Résoudre le cas pratique suivant :

Loana Gomme, née le 19 avril 1991, a épousé Tomy Choux, né le 19 avril 1990, le 3 juillet 2010 à la mairie de Portiragnes, village dans lequel le jeune couple loue un appartement. Détestant son nom de famille, Loana fait usage du nom de son mari depuis leur mariage et souhaite attribuer ce seul nom à leurs enfants.

Loana a accouché hier matin d'une petite fille en parfaite santé dans un hôpital de Béziers. C'est le premier enfant du couple. Tomy, peu habitué à

Loana a accouché hier matin d'une petite fille en parfaite santé dans un hôpital de Béziers. C'est le premier enfant du couple. Tomy, peu habitué à s'occuper de formalités administratives, se demande où déclarer cette naissance et dans quel délai.

Les jeunes parents souhaitent prénommer leur fille Fleur. C'est un prénom que Loana a toujours adoré ; elle en a souvent parlé avec sa meilleure amie, avant même de rencontrer Tomy. Cependant, ce matin, une aide-soignante de la maternité lui a affirmé que ce choix ne serait pas accepté compte tenu du nom de famille... Loana s'inquiète et se demande s'il est vraiment possible de lui refuser le choix de ce prénom.

Vous répondrez à la question de Monsieur Choux puis vous expliquerez à Madame Choux s'il existe un risque de refus du prénom choisi ou de suppression ultérieure de celui-ci.

2^o - Enoncer en quelques lignes les différences entre un acte juridique et un fait juridique.

PROBLEMES SOCIAUX CONTEMPORAINS

----***----

Problèmes sociaux contemporains

L1 AES/DROIT

Cours de Mr BESTION et Mme BENHAÏM

Jeudi 16 décembre 2010

9h-10h30

- 1) En quoi les régimes de retraite par répartition sont-ils sensibles à la fois à la structure par âge de la population et aux comportements d'activité ?
- 2) Quels sont les enjeux du développement durable aujourd'hui ?

Aucun document n'est autorisé.

SCIENCES ECONOMIQUES

----***----

1er ANNEE LICENCE DROIT
- * - * - * -
SCIENCES ECONOMIQUES
(COURS DE Mr LECHUGA)
LUNDI 13 DECEMBRE 2010
DUREE DE L'EPREUVE : 1H30 (de 14h à 15 h30)

Traiter les deux exercices et les deux questions de cours ci-après :

Exercice 1 :

Les Comptes de la Nation nous donnent les informations suivantes (en milliards d'euros)

I- Comptes établis pour l'année N :

PIB : 2000
PIB : 2000
Importations : 500
Consommation finale : 1600
Formation Brute de Capital Fixe : 360
Variations de Stocks : - 10
Exportations : 550

II- Comptes établis pour l'année N + 1 :

PIB : 2080
Importations : 520
Consommation Finale : 1640
Formation Brute de Capital Fixe : 380
Variation de Stocks : + 20
Exportations : 560

- Donner une définition du PIB d'un pays.
- Calculer le taux de croissance du PIB entre N et N+1
- Ecrire la forme générale de l'équation d'équilibre emplois-ressources en biens et services. Application au cas de l'année N puis à celui de l'année N+1.
- Quelle est la contribution du solde du commerce extérieur à la croissance du PIB. Comment cela s'explique-t-il ?
- Le comportement des entreprises en matière de stockage durant l'année N+1 a-t-il été favorable à l'activité et à la croissance ? Justifier la réponse.

Exercice 2 :

Après avoir fait une étude de marché, le Directeur d'une salle de sport a pu déterminer quelques caractéristiques de la demande d'abonnements mensuels des clients potentiels et, notamment son comportement face aux tarifs proposés :

Prix de l'abonnement mensuel (en euros)	50	40	30	20	10
Nombre d'abonnements souscrits	20	60	90	120	150

Déterminer l'élasticité-prix de la demande sur l'intervalle de prix [20 - 10]

Question de cours 1 :

Définir les besoins et les capacités de financement dégagés par les agents économiques du fait de leur activité dans la sphère réelle. Comment ces situations peuvent-elles se dénouer (deux scénarios sont possibles) ?

Question de cours 2 :

Que se passe-t-il sur le marché d'un bien si à un moment donné l'ensemble de la clientèle potentielle bénéficie d'un enrichissement général ? (*Illustration graphique exigée*)

L'USAGE DE LA CALCULETTE EST AUTORISÉ

INFORMATIQUE

-----****-----

(2)



EXAMEN D'INFORMATIQUE

1^{ère} année Décembre 2010

Nom : N° étudiant :

Prénom :

**Attention : Avant de quitter la salle d'examen,
assurez-vous que votre mail est réceptionné dans la boîte de messagerie de votre correcteur
Pensez à enregistrer régulièrement votre travail**

Sur le disque C créez l'arborescence suivante (avec vos nom, prénom): (1pt)

```

C:\
├── Dupond henri
│   ├── Excel
│   └── word
└──
  
```

1. PARTIE EXCEL sur 9 points :

a) Dans le dossier 'Excel', créer le document Excel '**graphe-INSEE.xls**' en copiant le contenu du fichier 'excel2.xls' présent sur le serveur Etudiants.

b) Compléter et mettez en forme le tableau comme à l'image du tableau ci-dessous en respectant les consignes suivantes :

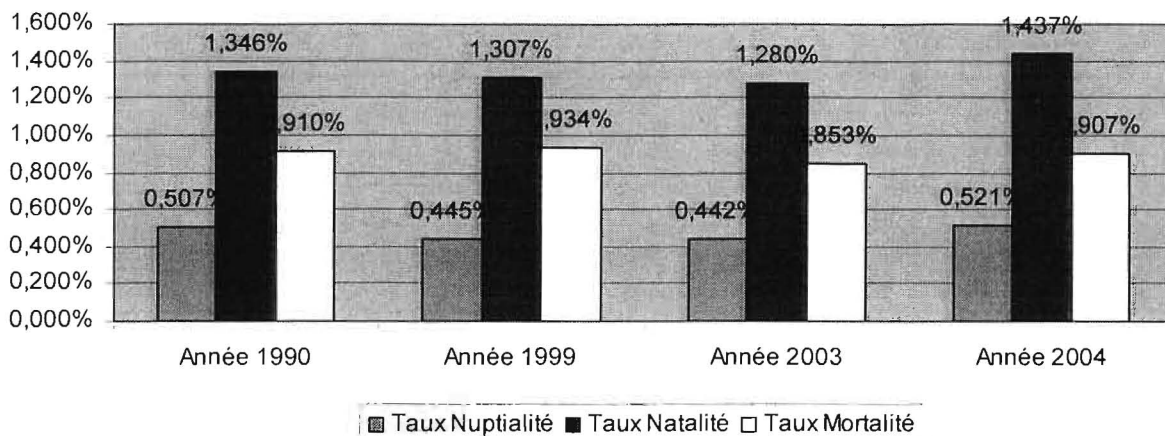
- les cellules en italique sur fond gris clair sont obtenues par des formules :
- les cellules en italique sur fond gris clair sont obtenues par des formules :
 - Taux nuptialité = nombre de mariages / population
 - Taux natalité = nombre de naissances / population (1 pt)
 - Taux mortalité = nombre de décès / population
 - Total : utilisez la formule SOMME (1pt)
- Mise en forme :
 - Respect de la mise en forme du tableau (caractère, cellules, fusion,...) (1pt)
 - Mise en forme des taux en format pourcentage avec 3 décimales (1pt)

	A	B	C	D	E	F	G	H
1	Hausse des naissances et des décès en Picardie en 2005							
2	Population et mouvement naturel de la population picarde							
3								
4	Picardie	Mariages	Naissances	Décès	Population	Taux Nuptialité	Taux Natalité	Taux Mortalité
5	Année 1990	9 425	25 000	16 900	1 858 000	0,507%	1,346%	0,910%
6	Année 1999	8 340	24 500	17 500	1 874 000	0,445%	1,307%	0,934%
7	Année 2003	8 280	24 000	16 000	1 875 000	0,442%	1,280%	0,853%
8	Année 2004	9 420	26 000	16 400	1 809 000	0,521%	1,437%	0,907%
9	Total	26 045	73 500	50 400				
10								
11	France métropolitaine	Mariages	Naissances	Décès	Population	Taux Nuptialité	Taux Natalité	Taux Mortalité
12	Année 1990	287 000	762 000	526 000	56 577 000	0,507%	1,347%	0,930%
13	Année 1999	272 000	768 000	509 000	60 340 000	0,451%	1,273%	0,844%
14	Année 2003	286 000	745 000	538 000	58 497 000	0,489%	1,274%	0,920%
15	Année 2004	276 000	761 000	552 000	59 970 000	0,460%	1,269%	0,920%
16	Total	559 000	1 530 000	1 035 000				

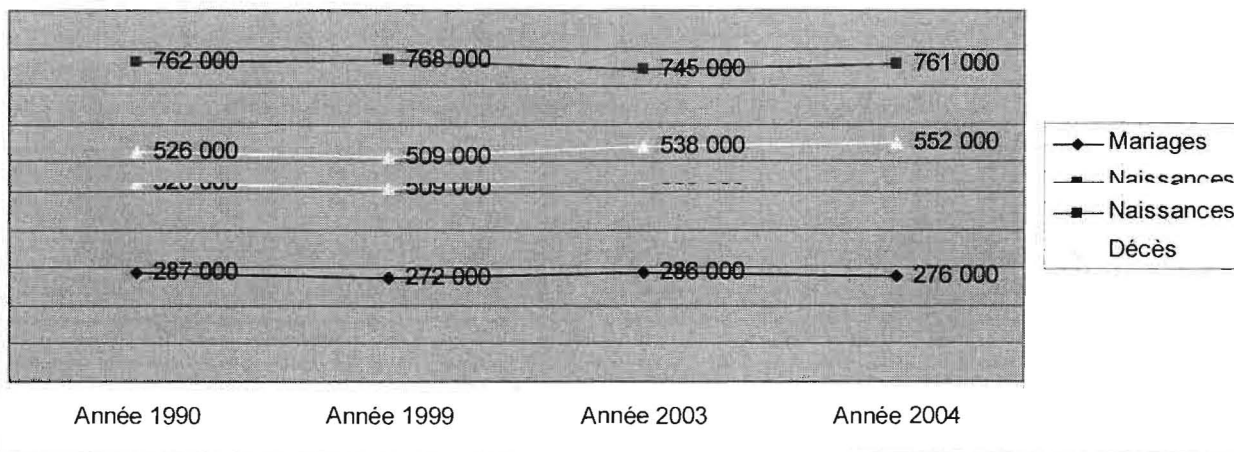
c) Mettez une mise en forme conditionnelle sur les nombres de naissances en Picardie pour mettre en évidence (**caractère gras et rouge**) les nombres supérieurs ou égaux à 25 000 (2pt)

d) Faites les deux graphiques suivantes (vous insérerez le premier graphique dans le document Word de la partie 2) : (3pt)

Evolution taux Picardie



Evolution France Métropolitaine



Enregistrer votre fichier dans votre dossier Excel sous le nom :

grapheINSEE.xls

2. PARTIE WORD sur 9 points :

Dans le dossier 'word', créer le document Word 'INSEE.doc' et y copier/coller le texte contenu dans le fichier 'insee.txt' (sur le serveur Etudiant).

Dans insee.txt est précisé entre crochet [] le style à appliquer sur la phrase concernée.

Mettre en forme le document Word afin d'obtenir le résultat du document qui vous a été distribué.

- a) Mettre en forme le titre (police Arial, taille 18, retrait gauche 1,5 cm) et insérer l'image INSEE.png (1pt)

- b) Après la ligne de titre, insérer une date dynamique cadrée à droite (police Times new roman taille 10) (1pt)
- c) Sur l'ensemble du reste du document :
- Mettez une police times new roman taille 11.
 - Mettez un retrait gauche de 1 cm et créer un décalage un décalage de 0,5 cm pour le première ligne.
 - Mettez le texte en justifié.
 - Mettez l'espacement entre les paragraphes de 6pt avant et 6 pt après. (1pt)
- d) Encadré les 2 premiers paragraphes après avoir mis le texte en vert et en italique(1pt)
- e) Créer le style « INFO2 » ayant les propriétés : (1pt)
- Arial 14 noire gras, petites majuscules, bordure bas orange, fond bleu
 - espacement entre les paragraphes de 6pt avant et 6 pt après
 - retrait gauche 1 cm et pas de décalage de la première ligne.
- f) Appliquer ce style aux 2 lignes du texte précédées de [INFO2] (1pt)
- g) Créer le tableau et mettez-le en forme comme dans le document joint (2pt)
- h) Positionner la dernière ligne grâce à une tabulation droite en position 14 (1pt)

Enregistrer votre fichier dans votre dossier Word sous le nom : **INSEE.doc**

3. COMPRESSION et MESSAGERIE : (1pt)

Zipper le dossier nom-prénom et l'envoyer par mail à l'adresse de votre correcteur (si vous ne savez pas compresser le dossier nom-prénom, envoyer en pièce jointe du mail, les fichiers INSEE.doc et grapheINSEE.xls) :

ut1-bourel@hotmail.fr

ut1-cruciani@hotmail.fr

Pour tout problème dans l'envoi, enregistrez votre travail sur la clé USB de votre correcteur

UNE CROISSANCE DE LA POPULATION RALENTIE

Le 26 novembre 2010

En 2005, malgré une progression des naissances, l'accroissement naturel est resté le même qu'en 2004, la hausse des décès contrebalançant celle des naissances.

Le nombre de mariages continue de diminuer tandis que le nombre de Pacs progresse. La population picarde, estimée à 1 877 000 habitants au 1er janvier 2005 a augmenté depuis 1999 à un rythme plus lent que pendant la période 1990-1999 : 0,17 % par an contre 0,28 % à cause de l'aggravation du déficit migratoire.

Au 1er janvier 2005, la population picarde est estimée à 1 877 000 habitants, ce qui représente un gain de 19 000 habitants depuis le recensement de 1999.

Entre 1999 et 2005, la population de la Picardie augmente néanmoins à un rythme plus lent que dans la période inter censitaire précédente : 0,17 % l'an entre 1999 et 2005 contre 0,28 % entre 1990 et 1999. L'accentuation du déficit migratoire ralentit en effet la progression de la population régionale. La Picardie a ainsi perdu 29 000 habitants par solde des entrées et des sorties depuis 1999.

Les régions qui voisinent avec la Picardie (le Nord - Pas-de-Calais, la Champagne-Ardenne, la Haute-Normandie ou l'Ile-de-France) présentent, elles aussi, un solde migratoire négatif. Exceptée la Champagne-Ardenne, chacune de ces régions conserve une croissance démographique grâce à son excédent de naissances sur les décès. En Picardie, l'accroissement naturel reste ainsi tout à fait conforme à celui observé sur la période 1990-1999 : + 0,44 % l'an.

LEGERE PROGRESSION DES NAISSANCES ET DES DECES

En moyenne pour les années 2003-2004, la Picardie arrive toujours dans les régions de tête pour son indice conjoncturel de fécondité juste derrière les Pays de la Loire. Avec 2 enfants par femme, elle se tient nettement au-dessus de la moyenne nationale (1,88 enfant par femme) alors que la France se situe elle-même au second rang des pays de l'Union européenne derrière l'Irlande.

Les Picardes ont aujourd'hui en moyenne leurs enfants presque un an plus tôt que les Françaises. Après la Haute-Normandie et les départements d'Outre-Mer, ce sont elles qui, en France, font leurs enfants les plus jeunes.

Évolution démographique en Picardie (Unité : %)

Picardie	Taux de variation annuel		
	Total	dû au mouvement	
		naturel	migratoire
1975-1982	0.51	0.51	0.00
1982-1990	0.50	0.52	-0.02
1990-1999	0.28	0.44	-0.16
1999-2005	0.17	0.44	-0.26

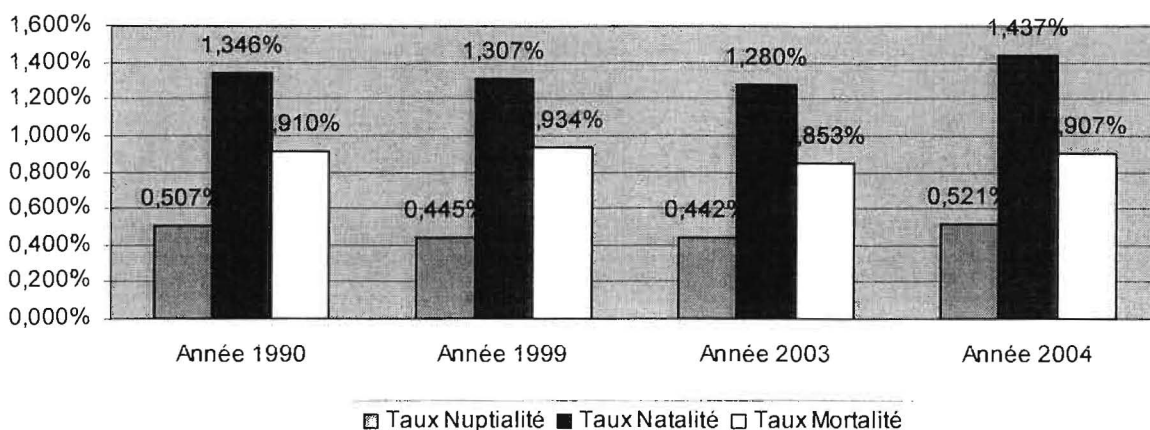
Sources : RP 1975 à 1999 et enquêtes de recensement 2004 et 2005

Contrairement aux années précédentes, c'est au cours du mois d'octobre que les maternités picardes auront été le plus sollicitées en 2005. Habituellement, c'est le mois de juillet qui constitue le pic de l'année pour les naissances. Au premier trimestre 2006, le niveau des naissances est du même ordre qu'en 2005.

naturel reste ainsi tout à fait conforme à celui observé sur la période 1990-1999 : + 0,44 % l'an.

Le solde naturel est quasiment le même en 2005 qu'en 2004. En effet, la petite élévation du nombre de naissances est contrebalancée par une hausse identique des décès.

Evolution taux Picardie



En février et en mars, les décès ont augmenté significativement suite à une forte épidémie de grippe. En revanche, durant le deuxième semestre de l'année, les décès ont diminué par rapport à 2004. La baisse des décès observée en 2004 par rapport à 2002 (dernière année de référence avant la canicule d'août 2003) se poursuit en 2005 dans une moindre mesure. Cependant, chez les personnes âgées de plus de 75 ans cette baisse a été assez minime entre 2002 et 2005. La diminution des décès la plus forte se situe en fait sur la tranche d'âge des 60-69 ans. Or, l'effectif de cette tranche d'âge est en diminution car elle correspond à des années de moindres naissances en raison, d'une part de la guerre 1939-1945, d'autre part, de l'arrivée dans ces années là de classes creuses à l'âge de la fécondité.

Chaque année, l'espérance de vie des Picards progresse même si elle conserve un retard d'un an et demi environ sur celle de l'ensemble des Français. Depuis 10 ans, l'espérance de vie a ainsi progressé d'un an et demi pour les femmes et de 2 ans et demi pour les hommes, autant en Picardie qu'en France. La mortalité infantile s'est améliorée en Picardie. Pour la première fois en 2003, le taux de mortalité infantile en Picardie était de 4,0 % en France métropolitaine. C'est surtout dans l'Aisne et la Somme que ce taux a été exceptionnellement bas.

LES MARIAGES N'ONT DECIDEMENT PLUS LA COTE

En 2004, le niveau des mariages a été exceptionnellement bas en France comme en Picardie. Si les mariages n'ont vraiment plus la cote, en revanche le succès du PACS va sans cesse croissant depuis sa création en 1999. En 2004, le millier de Pacs a été dépassé en Picardie, soit moitié plus qu'en 2003.

Ce qui représente tout de même un PACS contracté pour huit mariages. Cette progression est similaire au niveau national.

À noter qu'en 2005, le nombre de divorces a encore augmenté pour atteindre un divorce prononcé pour deux mariages célébrés dans l'année.

Sources : INSEE

Chaque année, l'espérance de vie des Picards progresse même si elle conserve un retard d'un an et demi environ sur celle de l'ensemble des Français. Depuis 10 ans, l'espérance de